



naam:

groep:

1 Reken uit. Vul in.



| | | | | | | | | | | | | | | |
|---|---|---|---|---|---|---|---|---|---|---|---|---|---|---|
| 5 | 7 | | 3 | 8 | | 5 | 7 | | 6 | 3 | | 4 | 3 | |
| 1 | 3 | x | 1 | 4 | x | 1 | 6 | x | 1 | 5 | x | 1 | 8 | x |
| | | | | | | | | | | | | | | |
| | | | | | | | | | | | | | | |
| | | | | | | | | | | | | | | |
| | | | | | | | | | | | | | | |
| | | | | | | | | | | | | | | |
| | | | | | | | | | | | | | | |
| | | | | | | | | | | | | | | |
| | | | | | | | | | | | | | | |
| | | | | | | | | | | | | | | |
| | | | | | | | | | | | | | | |

2 Geef de korting in de strook aan en vul de korting in.



b Het kost € 120,-. Je krijgt 25% korting.

| | | | | |
|--|--|--|--|--|
| | | | | |
|--|--|--|--|--|

De korting is €

d Het kost € 100,-. Je krijgt 25% korting.

| | | | | |
|--|--|--|--|--|
| | | | | |
|--|--|--|--|--|

De korting is €

a Het kost € 90,-. Je krijgt 50% korting.

| | |
|--|--|
| | |
|--|--|

De korting is €

c Het kost € 150,-. Je krijgt 20% korting.

| | | | | |
|--|--|--|--|--|
| | | | | |
|--|--|--|--|--|

De korting is €

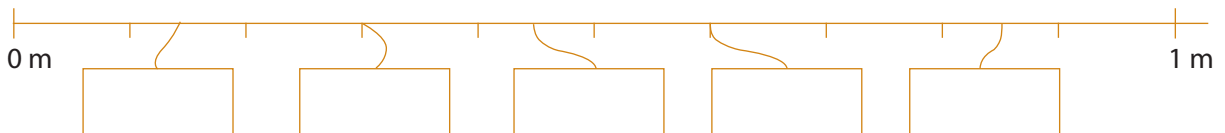
e Het kost € 250,-. Je krijgt 20% korting.

| | | | | |
|--|--|--|--|--|
| | | | | |
|--|--|--|--|--|


De korting is €

3 Welke getallen horen op de kaartjes? Zet de juiste getallen in de kaartjes.

a Kies uit: 0,3 m 0,45 m 0,14 m 0,6 m 0,85 m



b Kies uit: 0,17 m 0,71 m 0,7 m 0,23 m 0,8 m





naam: _____

groep: _____

4 Kies de juiste maat.

Klik het juiste vakje aan.



| |
|----------|
| 450 g |
| 0,045 kg |
| 45 mg |

| |
|---------|
| 175 mg |
| 175 ml |
| 1,75 cl |

| |
|--------|
| 700 cm |
| 0,7 m |
| 70 dl |

| |
|-------|
| 65 cm |
| 65 g |
| 65 cl |

| |
|--------|
| 1,7 l |
| 1,7 g |
| 1,7 dm |

5 Zet in de andere maat. Vul in.

2 m = cm

2 l = cl

2 g = cg

2 m = mm

2 l = ml

4 m = dm

6 l = dl

4 g = dg

8 m = cm

9 l = cl

**6 Welke oppervlaktemaat kies je?**Kies uit: km² hm²/ha dam² m² dm² cm² mm²**b** Vul in:**a** De oppervlakte van een gymnastieklokaal is ongeveer 250400 cm² = dm²

De oppervlakte van een tennisbaan is ongeveer 2

7000 dm² = m²


De provincie Groningen heeft een oppervlakte van ongeveer 3000

80 m² = dm²

De oppervlakte van een eettafel is ongeveer 250

30 dm² = cm²

Een handdoek heeft een oppervlakte van ongeveer 500

55 cm² = mm²



naam:

groep:

7 Reken uit. Vul in.

| | | | |
|---------------|-------------|---------------|-------------|
| € 2 1 7,3 5 | € 3 7 6,8 6 | | € 2 5 6,4 8 |
| € 2 5 7,8 3 | € 2 2 8,0 4 | € 7,2 5 | € 5 2 1,0 4 |
| € 9,1 7 | € 2 9,5 6 | € 4 3,6 5 | € 8 7,7 6 |
| € 3 6 1,5 5 + | € 5,8 4 + | € 2 9 6,1 7 + | € 6,2 5 + |


| | | | |
|-------------|--|--|--|
| € 3 4 4,8 5 | | | |
| € 2 9 8,4 3 | | | |
| € 3 7,7 8 + | | | |

8 Reken de nieuwe prijs uit. Vul in.

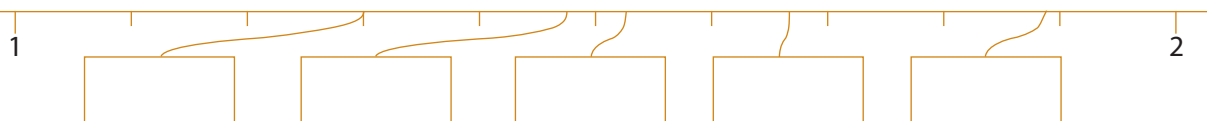
| prijs: | korting: | nieuwe prijs: | prijs: | korting: | nieuwe prijs: |
|--------|----------|----------------------------|--------|----------|---------------------------|
| € 240 | 50% | € 240 - € = € | € 300 | 25% | € 300 - € = € |
| € 500 | 20% | € 500 - € = € | € 900 | 10% | € 900 - € = € |
| € 2000 | 20% | € 2000 - € = € | € 450 | 10% | € 450 - € = € |
| € 400 | 10% | € 400 - € = € | € 800 | 5% | € 800 - € = € |
| € 70 | 10% | € 70 - € = € | € 60 | 5% | € 60 - € = € |

9 Zet de kommagetallen op de goede plaats.

a Kies uit:



b Kies uit:



c Kies uit:

